

EJERCICIOS DE REPASO
DE MATEMATICAS
PRIMER AÑO.

Nombre: _____

Grado: _____ Sección: _____

Fecha: _____

1.- Resuelve las siguientes operaciones.

$$\begin{array}{r} 34 \\ + 25 \\ \hline \end{array}$$

$$\begin{array}{r} 56 \\ + 42 \\ \hline \end{array}$$

$$\begin{array}{r} 66 \\ - 33 \\ \hline \end{array}$$

$$\begin{array}{r} 71 \\ + 27 \\ \hline \end{array}$$

$$\begin{array}{r} 82 \\ + 17 \\ \hline \end{array}$$



$$\begin{array}{r} 52 \\ - 13 \\ \hline \end{array}$$

$$\begin{array}{r} 81 \\ - 23 \\ \hline \end{array}$$

$$\begin{array}{r} 66 \\ + 24 \\ \hline \end{array}$$

$$\begin{array}{r} 71 \\ - 31 \\ \hline \end{array}$$

$$\begin{array}{r} 82 \\ + 11 \\ \hline \end{array}$$

+

2.- Resuelve los problemas razonados.

- María tiene 18 globos y vende 12 ¿Cuántos globos le quedan en total?

Datos

Operación

Resultado



- Hugo compró 45 canicas y su tío le regaló 13 ¿Cuántas canicas tiene en total?

Datos

Operación

Resultado



3.- Escribe el antecesor y sucesor donde corresponda.

___ 46 ___

___ 58 ___

___ 28 ___

___ 39 ___

___ 63 ___

4.- Escribe mayor que- menor que- igual.

24 ___ 56

38 ___ 71

35 ___ 35

61 ___ 58

43 ___ 12



5.- Escribo números en el calendario.



Diciembre

Domingo	Lunes	Martes	Miércoles	Jueves	Viernes	Sábado
1			4		6	
8		10				14
	16			19		
22			25			28
		31				

6.- Une correctamente el número como se escribe y como se lee.

Números cardinales		Números ordinales	
Se escribe	Se lee	Se escribe	Se lee
25	sesenta	5º	séptimo
41	cuarenta y uno	8º	segundo
38	veinticinco	2º	tercero
60	cincuenta y siete	3º	quinto
57	treinta y ocho	7º	octavo

7.- Cálculo mental.

1.- _____ 2.- _____ 3.- _____ 4.- _____ 5.- _____



8.- Comparo el peso de objetos. Subraya con color **verde** lo que pesa más.

- Una mochila o un lápiz.
- Un sacapuntas o un libro.
- Unas tijeras o un cuaderno.
- Un globo o un martillo.
- Una naranja o una sandia.



9.- En la tabla colorea un recuadro por cada objeto que observas.


7				
6				
5				
4				
3				
2				
1				

tijeras

sacapuntas

lápices


libros




- Escribe de cuál material hay más. _____
- Hay _____ sacapuntas.

10.- Cuenta el número de figuras que se te piden.




 _____

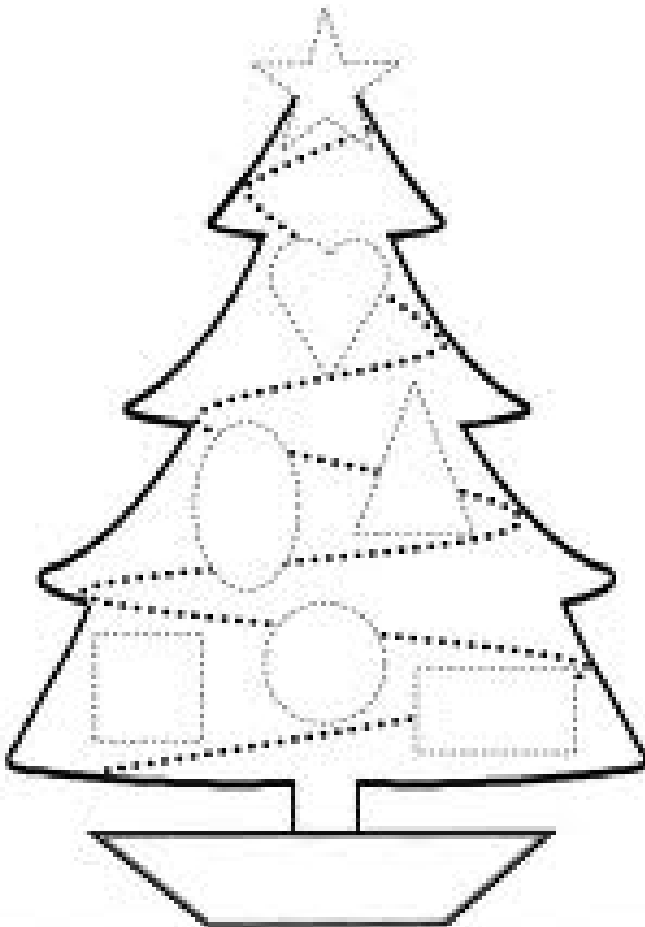
¿Que hay más pescados o ranas?

 _____

11.- Une los puntos siguiendo la secuencia numérica ascendente.



12.- Recorta y pega las figuras geométricas donde corresponda, y contesta las preguntas.



1.- Cual figura se encuentra en medio del cuadrado y rectángulo _____

2.- Escribe el nombre de la figura que esta debajo de la estrella. _____

3.- Que figuras están arriba del círculo. _____

